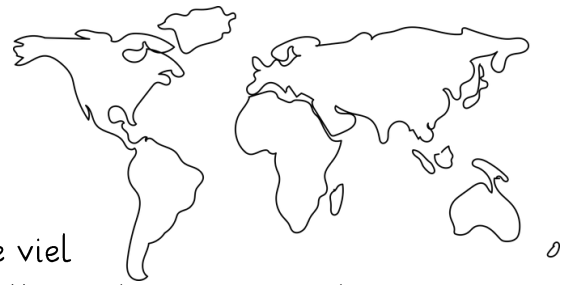


Karte




Der Maßstab 1

Auf Karten wird alles verkleinert dargestellt. Um wie viel kleiner die Wege, Straßen und Landschaften dargestellt werden, zeigt uns der

Er gibt an, wieviel 1 cm _____ ist.


Erkennst Du den Maßstab? Die erste Form hat die wirkliche Größe.

1. Maßstab: _____




Die Form ist 15 cm lang und 1,5 cm hoch.

2. Maßstab: _____



Die Form ist 7,5 cm lang und 0,75 cm hoch.

3. Maßstab: _____



Die Form ist 1,5 cm lang und 0,15 cm hoch.