





Ostern 2



Kettenaufgaben (Plus und Minus)



Fröhliche Ostern! Versuche mit den Bildern zu rechnen!



Welche Zahl ersetzt das jeweilige Bild?



(a) $14 +$  $+ 1 = 20$
 $= \underline{\hspace{2cm}}$



(b) $19 - 12 -$  $= 5$
 $= \underline{\hspace{2cm}}$



(c)  $+ 10 + 4 = 18$
 $= \underline{\hspace{2cm}}$



(d) $20 - 9 +$  $= 15$
 $= \underline{\hspace{2cm}}$



(e) $17 - 9 - 3 =$ 
 $= \underline{\hspace{2cm}}$

(f) $20 - 2 -$  $= 9$
 $= \underline{\hspace{2cm}}$

(g) $12 - 9 + 6 =$ 
 $= \underline{\hspace{2cm}}$

(h) $15 + 5 - 10 =$ 
 $= \underline{\hspace{2cm}}$

(i) $8 -$  $+ 12 = 19$
 $= \underline{\hspace{2cm}}$

(j) $2 - 1 + 11 =$ 
 $= \underline{\hspace{2cm}}$