



# Ostern 2 (Lösung)


## Kettenaufgaben (Plus und Minus)


Fröhliche Ostern! Versuche mit den Bildern zu rechnen!


Welche Zahl ersetzt das jeweilige Bild?


(a)  $14 + \text{Bunny} + 1 = 20$   
 = 5


(b)  $19 - 12 - \text{Grass} = 5$   
 = 2


(c)  $\text{Egg} + 10 + 4 = 18$   
 = 4


(d)  $20 - 9 + \text{Flower} = 15$   
 = 4


(e)  $17 - 9 - 3 = \text{Chicken}$   
 = 5

(f)  $20 - 2 - \text{Bunny} = 9$   
 = 9

(g)  $12 - 9 + 6 = \text{Lamb}$   
 = 9

(h)  $15 + 5 - 10 = \text{Flowers}$   
 = 10

(i)  $8 - \text{Sheep} + 12 = 19$   
 = 1

(j)  $2 - 1 + 11 = \text{Egg}$   
 = 12