





# Ostern 4



## Kettenaufgaben (Plus und Minus)



Fröhliche Ostern! Versuche mit den Bildern zu rechnen!



Welche Zahl ersetzt das jeweilige Bild?



(a)  $10 +$    $- 6 = 7$   
  $=$  \_\_\_\_\_



(b)  $19 - 3 -$    $= 7$   
  $=$  \_\_\_\_\_



(c)   $+ 8 + 7 = 18$   
  $=$  \_\_\_\_\_



(d)  $20 - 15 + 7 =$    
  $=$  \_\_\_\_\_



(e)  $17 - 3 - 1 =$    
  $=$  \_\_\_\_\_

(f)  $12 + 2 -$    $= 1$   
  $=$  \_\_\_\_\_

(g)  $16 - 9 + 3 =$    
  $=$  \_\_\_\_\_

(h)  $16 + 1 - 10 =$    
  $=$  \_\_\_\_\_

(i)  $5 +$    $+ 9 = 20$   
  $=$  \_\_\_\_\_

(j)  $12 - 1 - 6 =$    
  $=$  \_\_\_\_\_