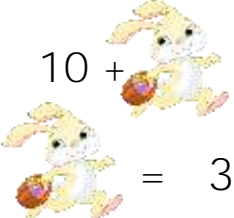



Ostern 4 (Lösung)


Kettenaufgaben (Plus und Minus)


Fröhliche Ostern! Versuche mit den Bildern zu rechnen!


Welche Zahl ersetzt das jeweilige Bild?


(a) $10 + \text{Bunny} - 6 = 7$
 = 3


(b) $19 - 3 - \text{Grass} = 7$
 = 9


(c) $\text{Egg} + 8 + 7 = 18$
 = 3


(d) $20 - 15 + 7 = \text{Flower}$
 = 12


(e) $17 - 3 - 1 = \text{Chicken}$
 = 13

(f) $12 + 2 - \text{Bunny} = 1$
 = 13

(g) $16 - 9 + 3 = \text{Lamb}$
 = 10

(h) $16 + 1 - 10 = \text{Flowers}$
 = 7

(i) $5 + \text{Sheep} + 9 = 20$
 = 6

(j) $12 - 1 - 6 = \text{Egg}$
 = 5