


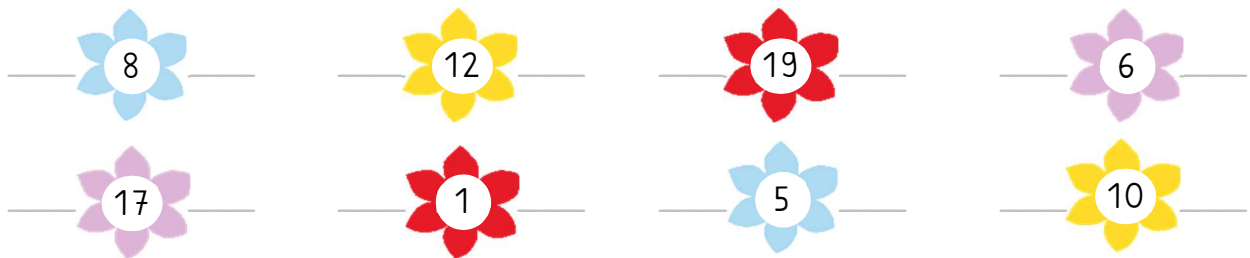
# Ostern 3



1. Setze das Muster fort.




2. Wie lauten die Nachbarzahlen?



3. Setze die Reihe fort.

 immer + 3      2, \_\_\_\_\_, \_\_\_\_\_, \_\_\_\_\_, \_\_\_\_\_, \_\_\_\_\_, \_\_\_\_\_

 immer - 2      19, \_\_\_\_\_, \_\_\_\_\_, \_\_\_\_\_, \_\_\_\_\_, \_\_\_\_\_, \_\_\_\_\_, \_\_\_\_\_, \_\_\_\_\_

4. Bei welchen Zahlen auf dem Zahlenstrahl wachsen die Blumen?

