



Halloween


Kettenaufgaben (Plus und Minus) 2


Versuche mit den grusligen Gestalten zu rechnen!


Welche Zahl ersetzt die jeweilige Gestalt?


(a) $10 + 4 - 2 =$ 

 = _____


(b) $20 - 10 -$  $= 5$


 = _____


(c) $8 + 1 + 10 =$ 


 = _____


(d) $9 +$  $+ 10 = 20$

 = _____


(e) $1 + 9 + 8 =$ 


 = _____


(f) $14 - 5 + 9 =$ 

 = _____


(g) $17 -$  $- 2 = 7$


 = _____


(h) $11 + 6 - 8 =$ 

 = _____

(i) $8 +$  $- 4 = 7$

 = _____

(j) $10 - 1 + 7 =$ 

 = _____