

Zeitaufgaben (volle Stunde) 1



1 Zeichne die Uhrzeit richtig ein!


18 : 00 Uhr



12 : 00 Uhr




5 : 00 Uhr




3 : 00 Uhr



20 : 00 Uhr




15 : 00 Uhr



9 : 00 Uhr



23 : 00 Uhr



10 : 00 Uhr

