

Name:

Klasse:

Mathematik

Zeitaufgaben (gemischt) 7



1 Zeichne die Uhrzeit richtig ein!


13 : 15 Uhr



21 : 45 Uhr



6 : 00 Uhr




7 : 30 Uhr



11 : 15 Uhr




19 : 00 Uhr



1 : 00 Uhr



20 : 15 Uhr



2 : 30 Uhr

