

Name:

Klasse:

Mathematik

Zeitaufgaben (halbe Stunde) 5



1 Zeichne die Uhrzeit richtig ein!


8 : 30 Uhr



2 : 30 Uhr



9 : 30 Uhr




16 : 30 Uhr



23 : 30 Uhr




4 : 30 Uhr



1 : 30 Uhr



11 : 30 Uhr



2 : 30 Uhr

