

Name:

Klasse:

Mathematik

Zeitaufgaben (halbe Stunde) 6



1 Zeichne die Uhrzeit richtig ein!


13 : 30 Uhr



12 : 30 Uhr



18 : 30 Uhr




19 : 30 Uhr



2 : 30 Uhr




23 : 30 Uhr



15 : 30 Uhr



17 : 30 Uhr



11 : 30 Uhr

