

Name:

Klasse:

Mathematik

Zeitaufgaben (viertel Stunde) 1




1 Zeichne die Uhrzeit richtig ein!


18 : 15 Uhr



12 : 15 Uhr




5 : 15 Uhr




3 : 15 Uhr



20 : 15 Uhr




15 : 15 Uhr



9 : 15 Uhr



23 : 15 Uhr



10 : 15 Uhr

