

Name:

Klasse:

Mathematik

Zeitaufgaben (viertel Stunde) 4




1 Zeichne die Uhrzeit richtig ein!


12 : 15 Uhr



11 : 15 Uhr




18 : 15 Uhr




19 : 15 Uhr



23 : 15 Uhr




7 : 15 Uhr



13 : 15 Uhr



8 : 15 Uhr



14 : 15 Uhr

