


# Einheitswürfel 3

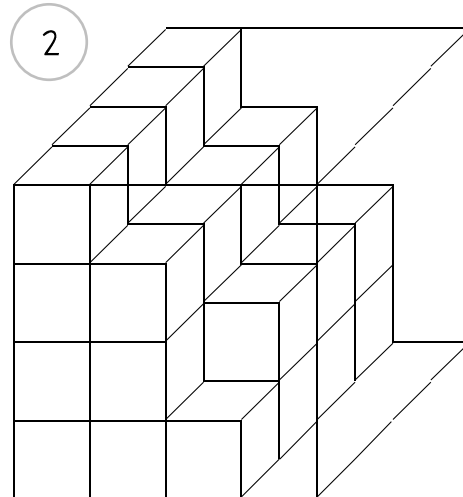


Beantworte für jede Schachtel die vier Fragen!

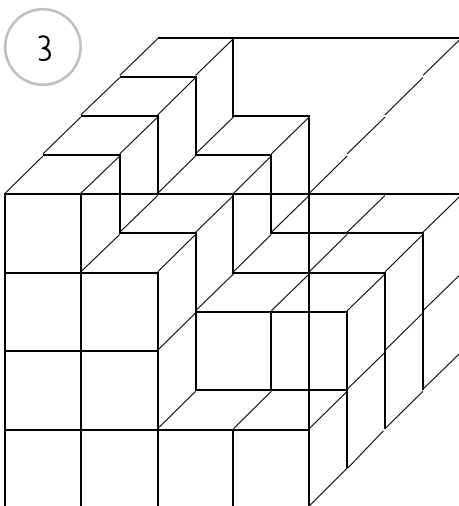
- Wie viele Würfel befinden sich in der Schachtel?
- Wie viele Würfel sind sichtbar?
- Wie viele Würfel fehlen in der Schachtel?
- Wie viele Würfel passen insgesamt in die Schachtel?



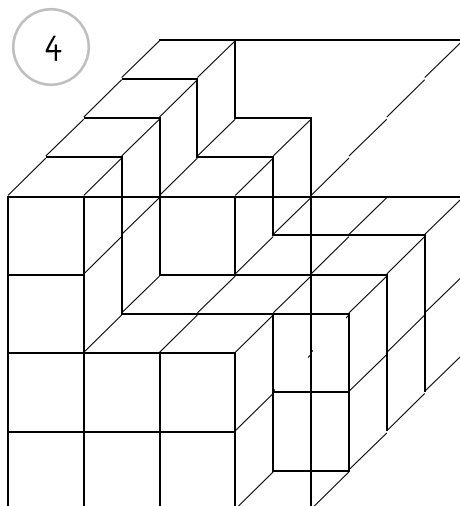
Es sind \_\_\_\_ Würfel.  
 Sichtbar sind \_\_\_\_ Würfel.  
 Es fehlen \_\_\_\_ Würfel.  
 Es passen \_\_\_\_ Würfel in die Schachtel.



Es sind \_\_\_\_ Würfel.  
 Sichtbar sind \_\_\_\_ Würfel.  
 Es fehlen \_\_\_\_ Würfel.  
 Es passen \_\_\_\_ Würfel in die Schachtel.



Es sind \_\_\_\_ Würfel.  
 Sichtbar sind \_\_\_\_ Würfel.  
 Es fehlen \_\_\_\_ Würfel.  
 Es passen \_\_\_\_ Würfel in die Schachtel.



Es sind \_\_\_\_ Würfel.  
 Sichtbar sind \_\_\_\_ Würfel.  
 Es fehlen \_\_\_\_ Würfel.  
 Es passen \_\_\_\_ Würfel in die Schachtel.