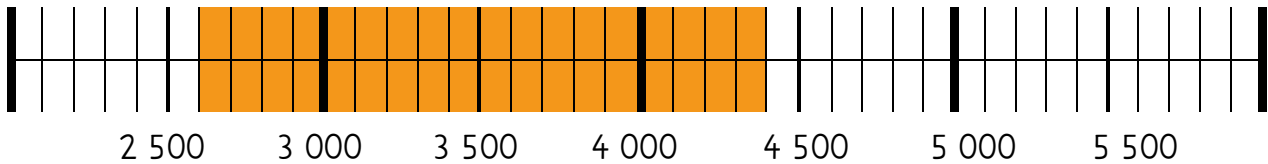




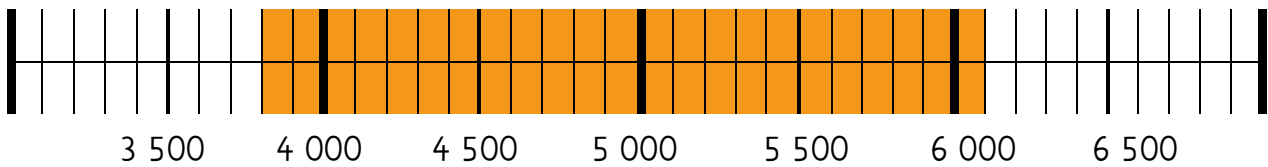
Zahlenstrahl 1 LÖSUNG

(Für mehr Nachhaltigkeit: Vergleicht die Lösungen am Bildschirm und druckt diese nicht aus.)

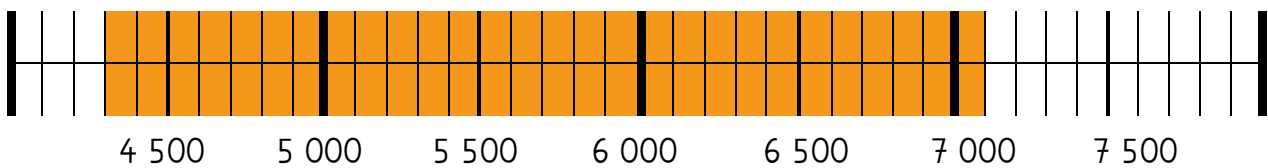
Berechne die Aufgabe und trage sie in den Zahlenstrahl ein.



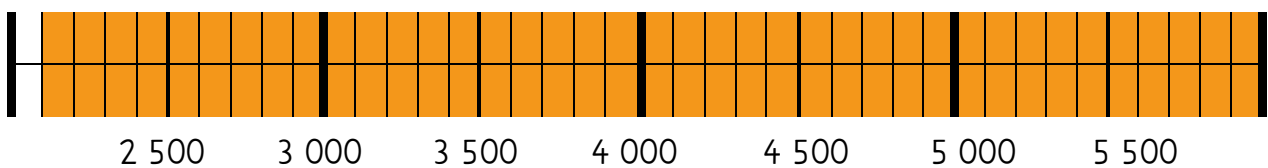
$$2\ 600 + 1\ 800 = 4\ 400$$



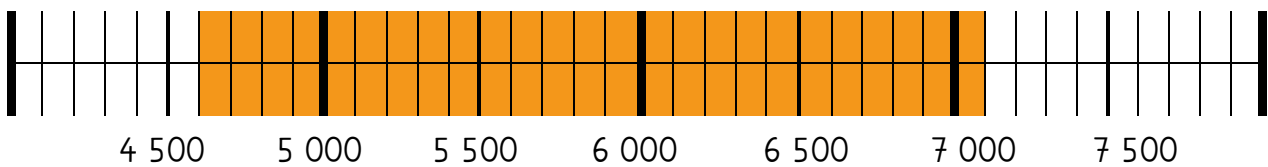
$$3\ 800 + 2\ 300 = 6\ 100$$



$$4\ 300 + 2\ 800 = 7\ 100$$



$$2\ 100 + 3\ 900 = 6\ 000$$



$$4\ 600 + 2\ 500 = 7\ 100$$