


# Euro und Cent (Lösung)

Wie viel Geld ist das? 1



12 Euro und 30 Cent



7 Euro und 65 Cent



1 Euro und 58 Cent

# Zahlenraum 20 (Lösung)

## gemischte Aufgaben 2



Rechne aus.

$14 - 9 = 5$

$6 + 8 = 14$

$14 - 1 = 13$

$9 - 5 = 4$

$7 + 9 = 16$

$13 - 6 = 7$

$12 - 9 = 3$

$5 + 7 = 12$

$18 - 7 = 11$

$14 - 6 = 8$

$7 + 6 = 13$

$14 - 5 = 9$

$5 + 6 = 11$

$15 + 5 = 20$

$13 + 6 = 19$

$15 + 4 = 19$

$14 + 5 = 19$

$16 + 4 = 20$

$6 + 17 = 23$

$19 + 1 = 20$

$14 + 5 = 19$

$15 - 9 = 6$

$18 - 9 = 9$

$18 - 6 = 12$

$18 - 4 = 14$

$16 - 7 = 9$

$16 - 15 = 1$

$17 - 3 = 14$

$17 - 5 = 12$

$19 - 17 = 2$

$18 - 8 = 10$

$15 + 2 = 17$

$2 + 18 = 20$

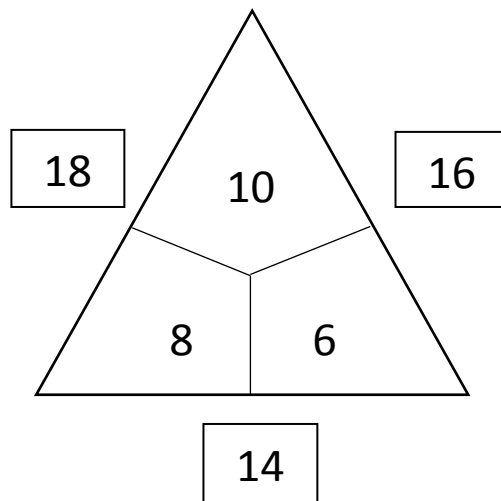
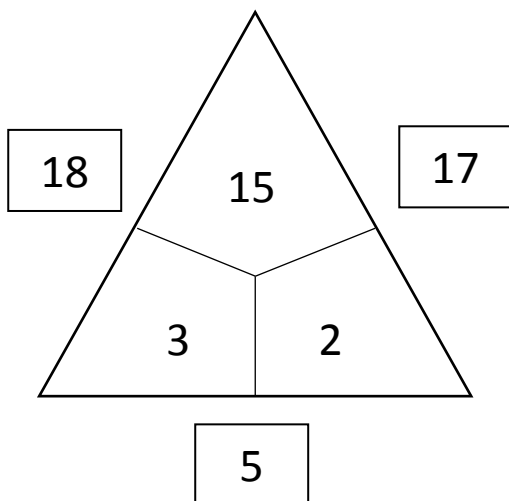
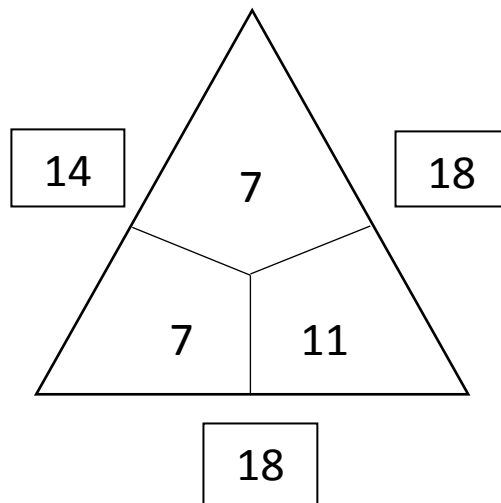
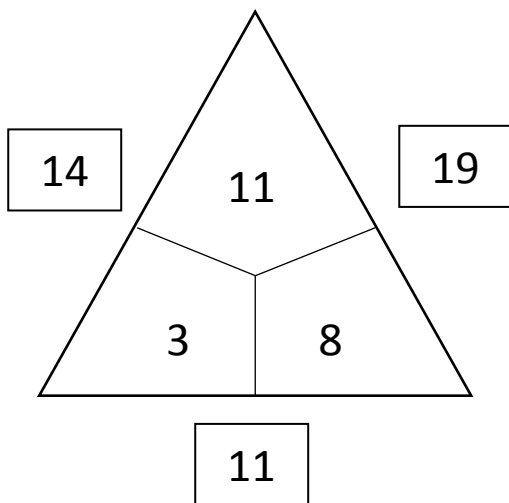
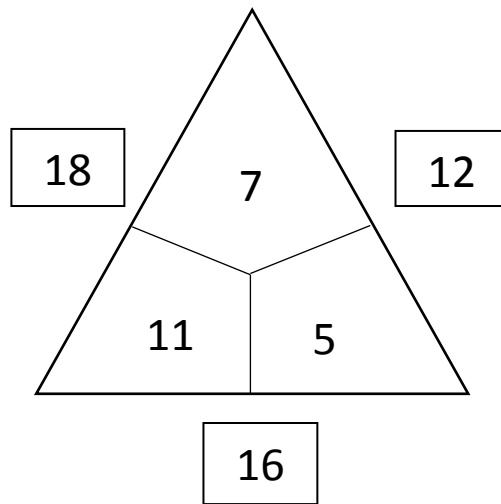
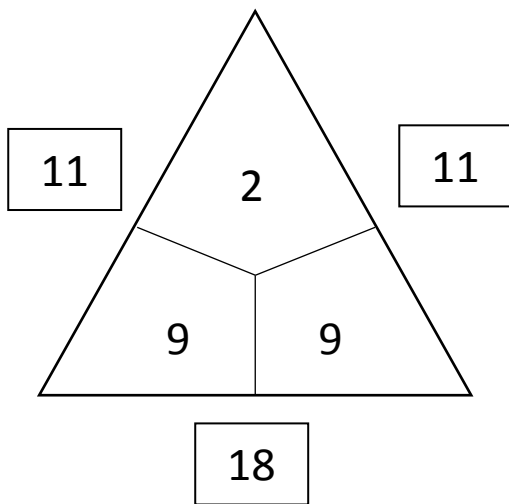

$12 + 4 = 16$

$14 + 5 = 19$

$4 + 16 = 20$

# Rechendreiecke 2 (Lösung)

Welche Zahlen gehören in die Felder?





# Rechenhäuser 2 (Lösung)

+7	
11	18
10	17
9	16
8	15
7	14

+8	
11	19
10	18
9	17
8	16
7	15

+9	
8	17
7	16
6	15
5	14
4	13

-4	
16	12
17	13
18	14
19	15
20	16

-5	
7	2
8	3
9	4
10	5
11	6

-6	
17	11
16	10
15	9
14	8
13	7

# Rechentabellen 2 (Lösung)



Berechne:

+	9	1	7	4	3	5	8	6	2
6	15	7	13	10	9	11	14	12	8
8	17	9	15	12	11	13	16	14	10
11	20	12	18	15	14	16	19	17	13
4	13	5	11	8	7	9	12	10	6
9	18	10	16	13	12	14	17	15	11

-	9	1	7	4	3	5	8	6	2
18	9	17	11	14	15	13	10	12	16
11	2	10	4	7	8	6	3	5	9
20	11	19	13	16	17	15	12	14	18
17	8	16	10	13	14	12	9	11	15
15	6	14	8	11	12	10	7	9	13

# Sachaufgaben 2 (Lösung)

Schreibe die Frage, die Rechnung und den Antwortsatz auf.



1. Ben hat fünf Sticker. Lilli hat doppelt so viele. Wie viele Sticker hat Lilli?

Rechnung:

$$5 + 5 = 10$$

Antwort:

Lilli hat zehn Sticker.

2. In der Gondel befinden sich 18 Skifahrer. An der Mittelstation steigen fünf aus und sechs steigen zu. Wie viele Fahrgäste fahren weiter?

Rechnung:

$$18 - 5 + 6 = 19$$

Antwort:

Es fahren 19 Fahrgäste weiter.

3. Leni hat 17 Gummibärchen bekommen. Vier davon isst sie sofort. Wie viele hat sie noch?

Rechnung:

$$17 - 4 = 13$$

Antwort:

Sie hat noch 13 Gummibärchen übrig.

# Verdoppeln und Halbieren 2 (Lösun)

## Verdoppeln

die Zahl	10	2	4	8	5	6	9	7	3
das Doppelte	20	4	8	16	10	12	18	14	6

## Halbieren

die Zahl	14	18	12	6	4	2	10	8	16
die Hälfte	7	9	6	3	2	1	5	4	8

## Gemischte Aufgaben

die Zahl	10	7	6	9	5	8	9	4	3
das Doppelte	5	14	12	18	10	16	18	8	6

# Zahlenrätsel 2 (Lösung)



## Finde die Zahl

Meine Zahl findest du:

- a) wenn du 8 und 3 zusammenzählst und vom Ergebnis 5 abziehst
- b) wenn du 4 von 12 abziehst und 9 hinzufügst
- c) wenn du 13 und 7 zusammenzählst und vom Ergebnis 10 abziehst
- d) wenn du 7 und 5 zusammenzählst und dann noch 4 hinzufügst

- a)  $8 + 3 - 5 = 6$
- b)  $12 - 4 + 9 = 17$
- c)  $13 + 7 - 10 = 20$
- d)  $7 + 5 - 4 = 8$

## Wie geht's weiter?

Finde die nächste passende Zahl

a)  $3 \longrightarrow 6 \longrightarrow 9 \longrightarrow 12 \longrightarrow 15$

b)  $1 \longrightarrow 5 \longrightarrow 9 \longrightarrow 13 \longrightarrow 17$

c)  $15 \longrightarrow 18 \longrightarrow 14 \longrightarrow 17 \longrightarrow 13$

d)  $2 \longrightarrow 5 \longrightarrow 9 \longrightarrow 14 \longrightarrow 20$

e)  $5 \longrightarrow 4 \longrightarrow 6 \longrightarrow 5 \longrightarrow 7$