

# Euro und Cent (Lösung)

Ergänze auf 20 Euro. 2



# Zahlenraum 20 (Lösung)

## gemischte Aufgaben 3

Rechne aus.



$$17 - 9 = 8$$

$$5 + 8 = 13$$

$$13 - 1 = 12$$

$$9 - 4 = 5$$

$$7 + 7 = 14$$

$$13 - 5 = 8$$

$$16 - 9 = 7$$

$$4 + 6 = 10$$

$$16 - 7 = 9$$

$$14 - 5 = 9$$

$$4 + 5 = 9$$

$$13 - 6 = 7$$

$$4 + 6 = 10$$

$$14 + 3 = 17$$

$$12 + 5 = 17$$

$$4 + 4 = 8$$

$$13 + 2 = 15$$

$$15 + 3 = 18$$

$$6 + 7 = 13$$

$$18 + 1 = 19$$

$$14 + 5 = 19$$

$$14 - 9 = 5$$

$$17 - 5 = 12$$

$$18 - 8 = 10$$

$$17 - 4 = 13$$

$$10 - 7 = 3$$

$$15 - 15 = 0$$

$$17 - 2 = 15$$

$$7 - 4 = 3$$

$$19 - 16 = 3$$

$$18 - 7 = 11$$

$$6 + 12 = 18$$

$$1 + 18 = 19$$

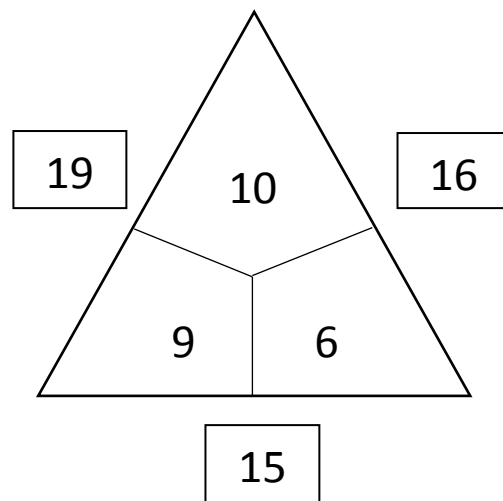
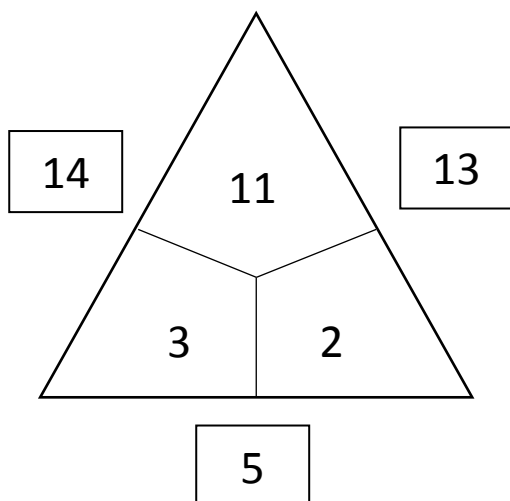
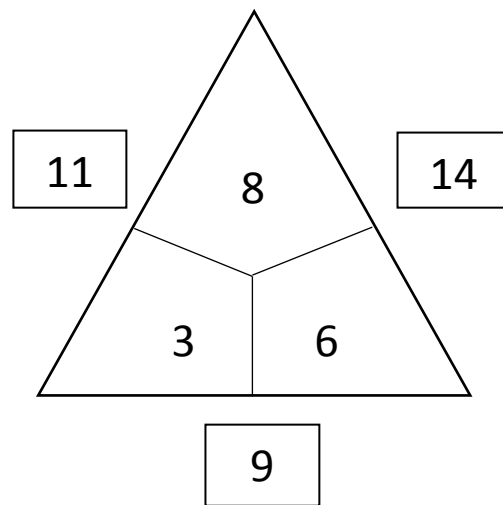
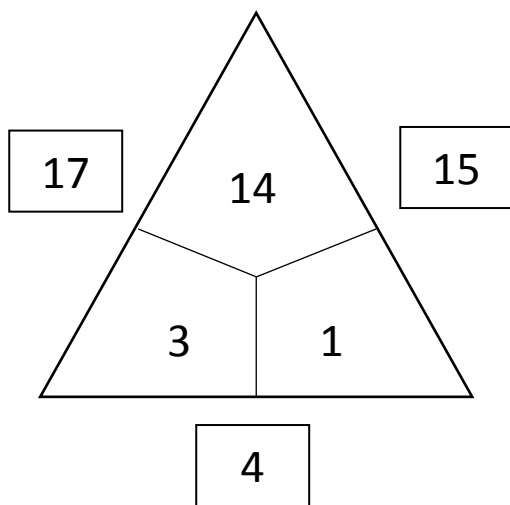
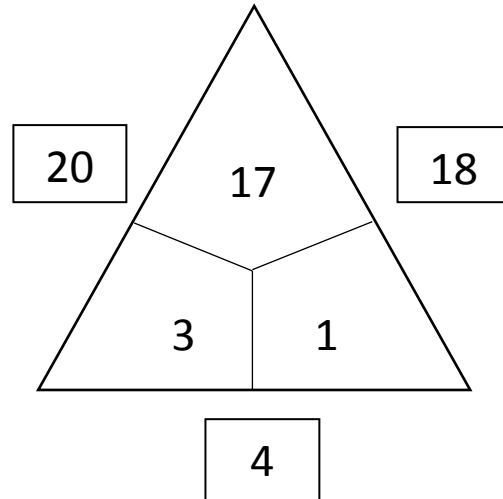
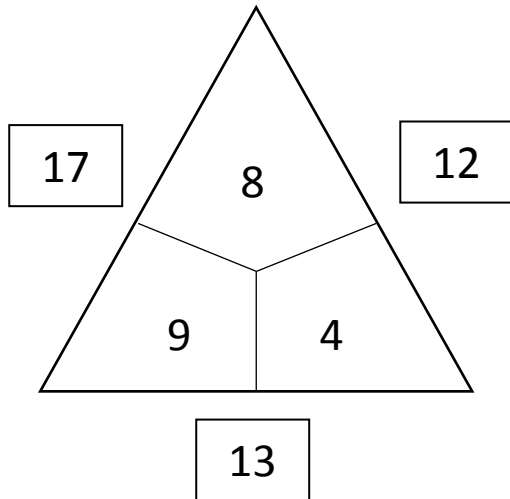

$$11 + 4 = 15$$

$$4 + 15 = 19$$

$$4 + 15 = 19$$

# Rechendreiecke 3 (Lösung)

Welche Zahlen gehören in die Felder?





# Rechenhäuser 3 (Lösung)

+7	
11	18
10	17
9	16
8	15
7	14

+6	
9	15
8	14
7	13
6	12
5	11


+8	
4	12
5	13
6	14
7	15
8	16

-3	
15	12
16	13
17	14
18	15
19	16

-6	
15	9
16	10
17	11
18	12
19	13

-9	
14	5
13	4
12	3
11	2
10	1


# Rechentabellen 3 (Lösung)



Berechne:

+	9	1	8	2	7	3	6	4	5
11	20	12	19	13	18	14	17	15	16
2	11	3	10	4	9	5	8	6	7
10	19	11	18	12	17	13	16	14	15
3	12	4	11	5	10	6	9	7	8
9	18	10	17	11	16	12	15	13	14

-	9	1	8	2	7	3	6	4	5
20	11	19	12	18	13	17	14	16	15
10	1	9	2	8	3	7	4	6	5
19	10	18	11	17	12	16	13	15	14
11	2	10	3	9	4	8	5	7	6
18	9	17	10	16	11	15	12	14	13



# Sachaufgaben 3 (Lösung)

Schreibe die Frage, die Rechnung und den Antwortsatz auf.

1. Unsere Familie hat 3 Fahrräder und 2 Autos. Wie viele Räder stehen in der Garage?

Rechnung:

$$2 + 2 + 2 + 4 + 4 = 14$$

Antwort:

Es sind insgesamt 14 Räder in der Garage.

2. Auf dem Schnellboot sind 13 Erwachsene und sechs Kinder. Wie viele Menschen sind an Bord?

Rechnung:

$$13 + 6 = 19$$

Antwort:

Es sind 19 Menschen an Bord.

3. Im Kuhstall von Bauer Huber stehen 4 Milchkühe. Wie viele Beine haben sie zusammen?

Rechnung:

$$4 + 4 + 4 + 4 = 16$$

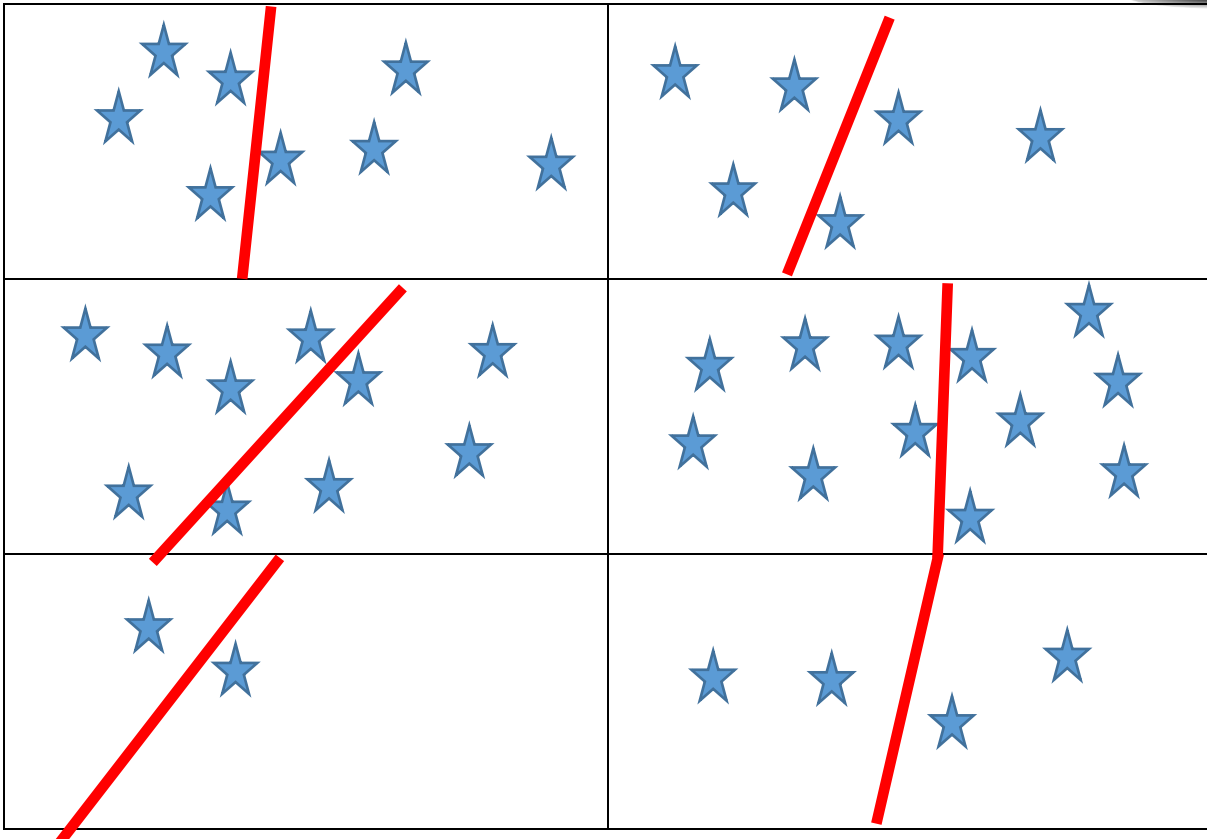
Antwort:

Die Kühe haben gemeinsam 16 Beine.

# Verdoppeln und Halbieren 3 (Lösung)



1. Teile die Sterne in 2 Gruppen.



2. Teile die Zahlen in zwei gleich große Hälften

$$4 = 2 + 2$$

$$8 = 4 + 4$$

$$14 = 7 + 7$$

$$12 = 6 + 6$$

$$18 = 9 + 9$$

3. Verdopple die Zahlen

$$4 + 4 = 8$$

$$8 + 8 = 16$$

$$7 + 7 = 14$$

$$3 + 3 = 6$$

$$5 + 5 = 10$$